

**Frage 1 des IQ Tests:** Führen sie die Zahlenfolge fort: 3 , 5, 8, 13, 21,

**Frage 2 des IQ Tests:** Führen sie die Zahlenfolge fort: 4, 5, 8, 17,

**Frage 3 des IQ Tests:** Führen sie die Zahlenfolge fort: 3, 4, 8, 17, 33,

**Frage 4 des IQ Tests:** Führen sie die Zahlenfolge fort: 11, 9, 7, 5, 3,

**Frage 5 des IQ Tests:** Führen sie die Zahlenfolge fort: 3, 6, 18, 72, 360,

**Frage 6 des IQ Tests:** Führen sie die Zahlenfolge fort: 30, 29, 27, 26, 24, 23, 21, 20,

**Frage 7 des IQ Tests:** Führen sie die Buchstabenfolge fort: A, D, G, J,

**Frage 8 des IQ Tests:** Führen sie die Buchstabenfolge fort: D, G, K, N, R,

**Frage 9 des IQ Tests:** Führen sie die Buchstabenfolge fort: B, C, E, H, L,

### Wortspiele

**Frage 10 des IQ Tests:** Setzen Sie den fehlenden Buchstaben ein, so daß zwei Wörter entstehen:  
LAU  TAU

**Frage 11 des IQ Tests:** Setzen Sie den fehlenden Buchstaben ein, so daß zwei Wörter entstehen:  
SOD  STERN

**Frage 12 des IQ Tests:** Setzen Sie den fehlenden Buchstaben ein, so daß zwei Wörter entstehen:  
UL  ERZE

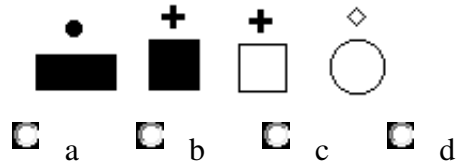
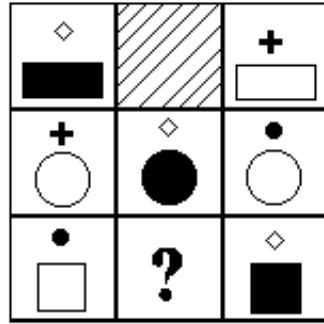
**Frage 13 des IQ Tests:** Markiere die Stadt, die nicht zu den anderen paßt:  
 Baku  Nairobi  Dublin  Den Haag  Lima

**Frage 14 des IQ Tests:** Markiere das Wort, welches nicht zu den anderen paßt:  
 Wal  Zander  Hering  Karpfen  Hecht

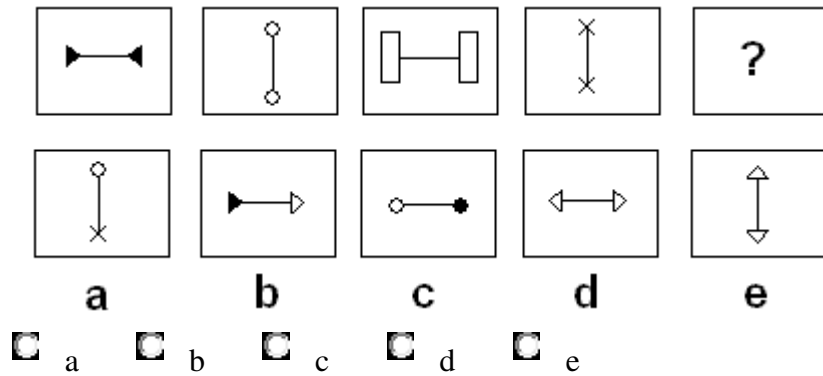
**Frage 15 des IQ Tests:** Markiere das Wort, welches nicht zu den anderen paßt:  
 Mann  Brecht  Ende  Heine  Defoe

### Figurenreihen

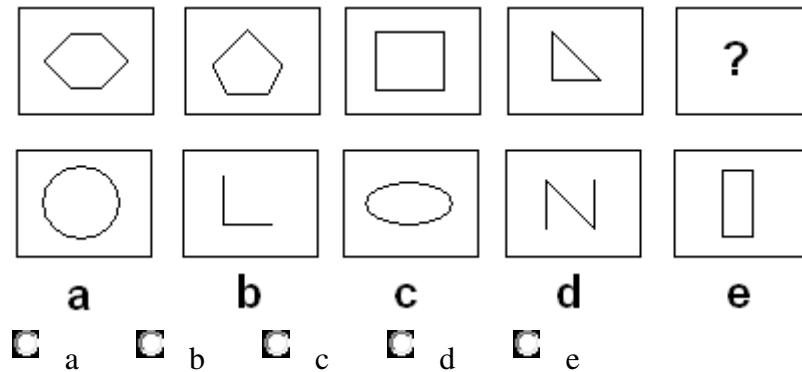
**Frage 16 des IQ Tests:** Finden Sie die Figur, die die Reihe fortsetzt:



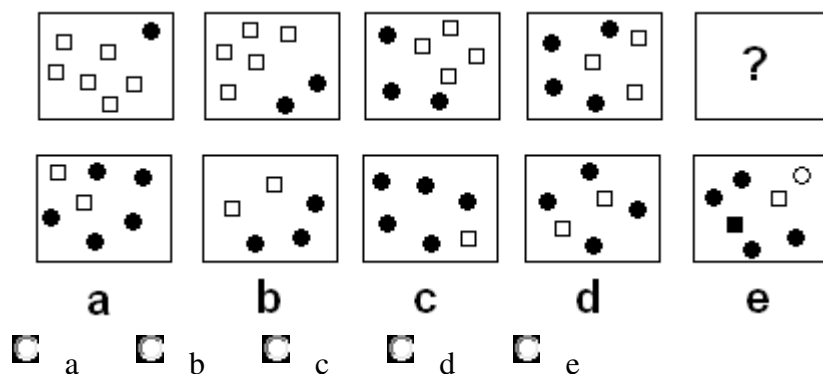
**Frage 17 des IQ Tests:** Finden Sie die Figur, die die Reihe fortsetzt:



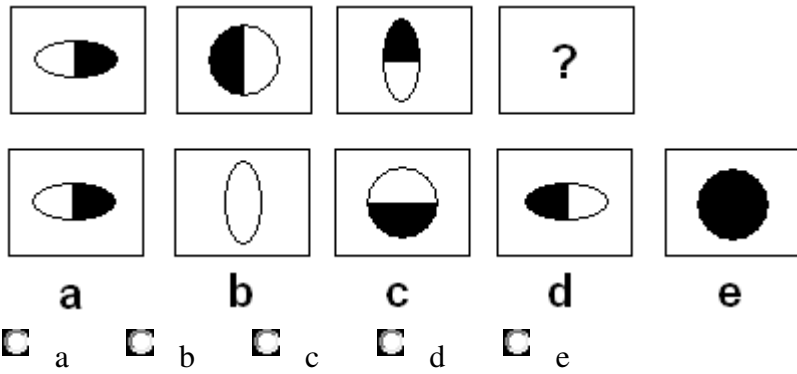
**Frage 18 des IQ Tests:** Finden Sie die Figur, die die Reihe fortsetzt:



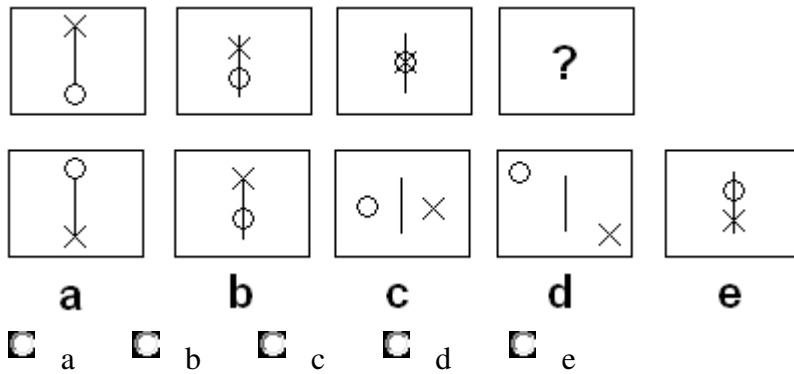
**Frage 19 des IQ Tests:** Finden Sie die Figur, die die Reihe fortsetzt:



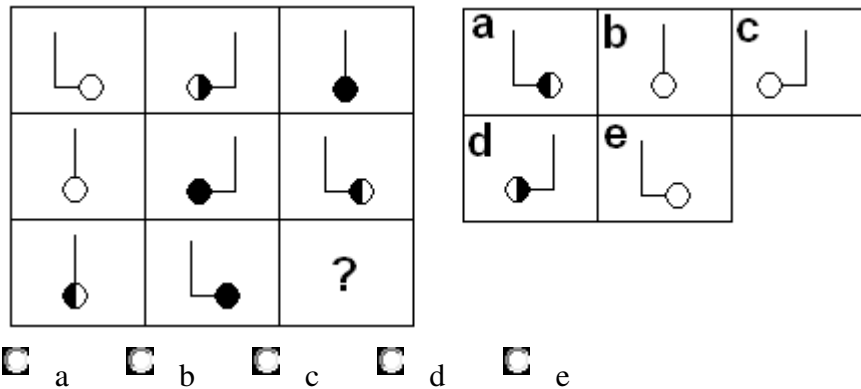
**Frage 20 des IQ Tests:** Finden Sie die Figur, die die Reihe fortsetzt:



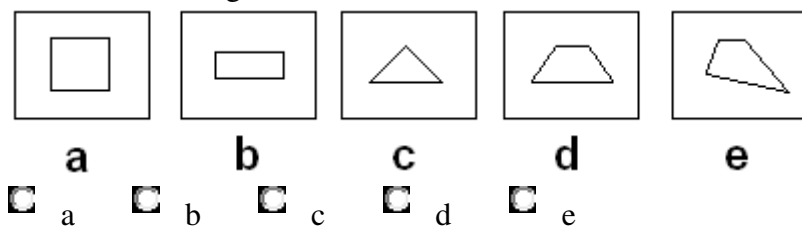
**Frage 21 des IQ Tests:** Finden Sie die Figur, die die Reihe fortsetzt:



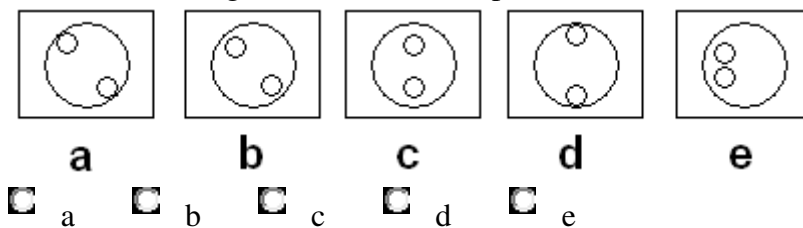
**Frage 22 des IQ Tests:** Finden Sie die Figur, die die Reihe fortsetzt:



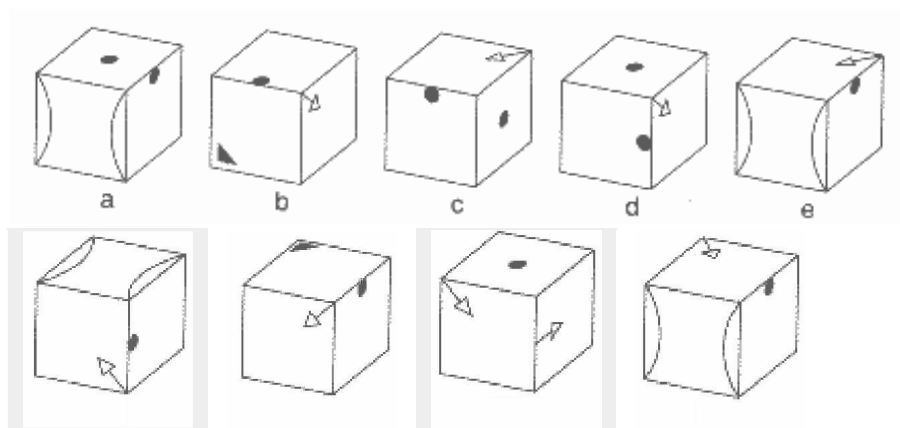
**Frage 23 des IQ Tests:** Finden Sie die Figur, die aus der Reihe tanzt:



**Frage 24 des IQ Tests:** Finden Sie die Figur, die nicht hierzu passt:



Finden Sie die gleichen Würfel. Achtung! Jede Seite eines Würfels sieht anders aus. Bitte nur Lösungen angeben, welche sich nicht nur auf die Rückseiten der Würfel beziehen. Es müssen mindestens 2 sichtbare Seiten in den Lösungen vorkommen!



**Frage 25:**

- a
- b
- d
- e

**Frage 26:**

- a
- b
- c
- d

**Frage 27:**

- a
- c
- d
- e

**Frage 28:**

- a
- b
- c
- d

Logikaufgaben: Welche Schlußfolgerung ist richtig:

**Frage**

**29 des**

**IQ**

**Tests:**

30 Jahre zurück brauchte ein Arbeiter 5 Stunden um einen Stuhl zu produzieren. Heute braucht ein Arbeiter nur noch 30 Minuten.

- a) Der Mensch ist fleißiger geworden.
- b) Um nicht arbeitslos zu werden, arbeiten die Menschen schneller.
- c) Stühle haben eine kürzere Lebensdauer.
- d) Arbeiter haben mehr Freizeit.
- e) Die Arbeitsproduktivität ist gestiegen.

**Frage**

**30 des**

**IQ**

**Tests:**

Nach dem Genuß von Alkohol Auto zu fahren, ist die Ursache vieler Unfälle.

- a) Der Mensch trinkt zu viel Alkohol.
- b) Mit mehr als 0,8 Promille sollte man nicht mehr Auto fahren.
- c) Die Chance ein Unglück nach Alkoholgenuß zu verursachen ist 20%.

- d) Alkohol vermindert die Fahrfähigkeiten.
- e) Die Polizei sollte mehr Alkoholkontrollen durchführen.

**Frage**  
**31 des**  
**IQ**  
**Tests:**

Kurz vor Weihnachten steigt der Umsatz der Spielzeuggläden.

- a) Die Kinder spielen im Winter gerne zu Hause.
- b) Die Hälfte der Weihnachtsgeschenke besteht aus Spielzeug.
- c) Zu Weihnachten wird viel Spielzeug verschenkt.
- d) Im Winter wird mehr Spielzeug produziert.
- e) Spielzeug für Erwachsene wird stets populärer.

**Frage**  
**32 des**  
**IQ**  
**Tests:**

Heute ist Mittwoch. Welcher Tag ist in 4 Tagen seit gestern?

- a) Sonntag
- b) Montag
- c) Freitag
- d) Donnerstag
- e) Samstag

**Frage**  
**33 des**  
**IQ**  
**Tests:**

Der Tag, der vor vorgestern lag, liegt drei Tage nach Samstag. Welcher Tag ist heute?

- a) Sonntag
- b) Montag
- c) Freitag
- d) Donnerstag
- e) Samstag

**Frage**  
**34 des**  
**IQ**  
**Tests:**

Welche Lampe leuchtet am kräftigsten?

Lampe A leuchtet nicht so kräftig wie die Lampe B

Lampe B leuchtet kräftiger als die Lampe C

Lampe C leuchtet genau so kräftig wie die Lampe D

Lampe B leuchtet kräftiger als die Lampe D

Lampe D leuchtet kräftiger als die Lampe A

- Lampe A
- Lampe B
- Lampe C
- Lampe D
- keine Lösung

**Frage**  
**35 des**  
**IQ**  
**Tests:**

Wer ist am kleinsten?

Oliver ist genauso groß wie Otto

Bert ist kleiner als Benno

Benno ist größer als Otto

Oliver ist kleiner als Bert

a) Oliver     b) Otto     c) Bert     d) Benno     e) keine  
eindeutige Lösung

**Frage**

**36 des**

**IQ**

**Tests:**

Ein Händler kauft für 1200 Euro Tee. Den Tee verkauft er wieder für 1500 Euro.

Pro Sack Tee machte er 50 Euro Gewinn. Wieviel Säcke Tee hatte er?

**Frage**

**37 des**

**IQ**

**Tests:**

87 kg Kartoffeln sind auf zwei Kisten (es wird angenommen, dass die Kisten gewichtslos sind) verteilt. Die eine Kiste wiegt 11 kg weniger als die andere.

Wieviel kilo sind in der leichteren Kiste?

**Frage**

**38 des**

**IQ**

**Tests:**

Was ist das Produkt von allen Zahlen von 0 bis 25?